

**CONCURSUL ȘCOLAR NAȚIONAL DE COMPETENȚĂ ȘI PERFORMANȚĂ COMPER**

**EDIȚIA 2018-2019 / ETAPA I – 28 ianuarie 2019**

**COMPER – MATEMATICĂ, CLASA PREGĂTITOARE**

- Toate subiectele sunt obligatorii.
- Timpul efectiv de lucru este de 50 de minute.
- Cerințele vor fi citite de învățător/supraveghetor.



Ascultă cu atenție enunțurile, apoi încercuiește răspunsurile corecte.

STANDARD

1. Câți pitici are Albă-ca-Zăpada?



2. Colorează brăduțul cu numărul cel mai mare.



3. Numărul care arată câte stele galbene sunt în imagine este:



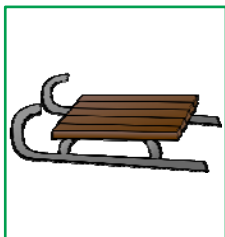
A. 4;


B. 3;

C. 7;

D. 6.

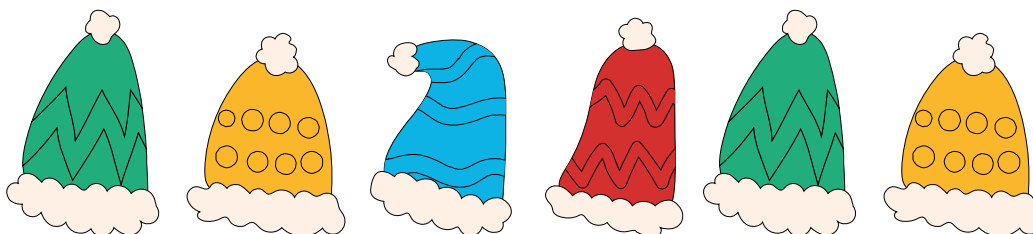
4. Găsește ce nu se potrivește și încercuiește litera corespunzătoare.



5. Privește șirul următor: **1**    **3**        **7**    **9**  
și găsește numărul pe care îl ascunde Moș Crăciun. Acesta este:  
A. 2;                      B. 8;                      C. 5;                      D. 6.
6. Desenează sub nor atâția fulgi de zăpadă câți sunt necesari pentru a fi 7. Câți fulgi ai desenat?



- A. 2;                      B. 5;                      C. 3;                      D. 4.
7. Observă șirul căciulițelor. Ce culoare are căciulița care urmează în șir?



- A. ALBASTRU;            B. ROȘU;                      C. GALBEN;                D. VERDE.


8. Ordonează descrescător numerele scrise pe cadouri.



Răspunsul corect este:

- A. 0, 1, 3, 4, 8;            B. 0, 1, 4, 3, 8;            C. 8, 4, 3, 0, 1;            D. 8, 4, 3, 1, 0.

9. Privește numerele din chenar și încercuiește-le pe cele care se află între 6 și 10. Câte numere ai încercuit?



- A. 9;                      B. 5;                      C. 2;                      D. 8.