

- ① Toate subiectele sunt obligatorii.
- ② Timpul efectiv de lucru este de 50 de minute.
- ③ Cerințele vor fi citite de învățător.

PUNCTAJ:


PREMIU:

NUME ELEV: .....

MENTOR/ȘCOALĂ: .....

Citește cu atenție enunțurile, apoi bifează în grilă răspunsurile corecte:

- 1 Privește imaginea. Câte grupe de 4 albinuțe se pot forma?



A. 1

B. 2

C. 3

D. niciuna

- 2 Al șaselea animal din șir este:




A. lup

B. vulpe

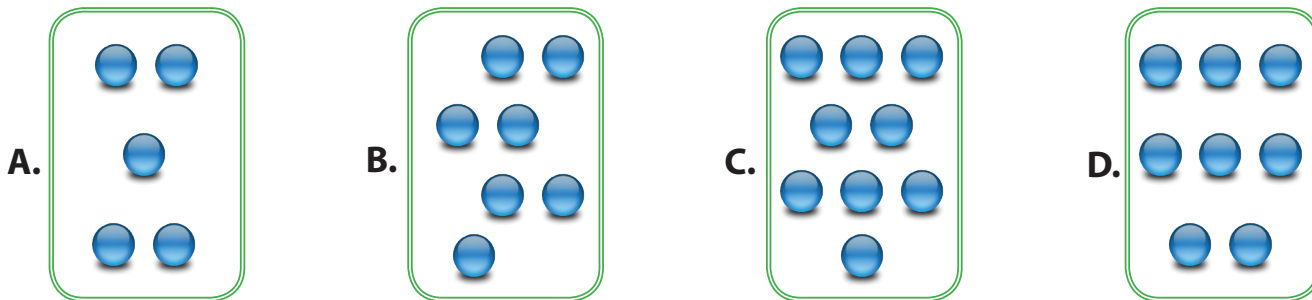
C. urs

D. iepure

- 3 Găsește ce nu se potrivește!



4 Încercuiește grupa cu cele mai multe bile.



5 Pe ultima frunză vei scrie...




- A. 3                      B. 2                      C. 1                      D. 0

6 Privește șirul următor. Ce număr ascunde iepurașul?




- A. 6                      B. 8                      C. 7                      D. 4

7 Câte steluțe trebuie să mai desenezi pentru ca mulțimea să aibă 10 elemente?



- A. 2                      B. 3                      C. 4                      D. 5

8 Încercuiește toate numerele mai mici decât 6.



Ai găsit:

A. 4 numere

B. 5 numere

C. 6 numere

D. 7 numere


9 În mulțimea de mai jos, imaginea care apare de cele mai multe ori este:



A.



B.



C.



D.



# BAREM DE CORECTARE

Concursul Școlar Național de Competență și Performanță COMPER

Clasa pregătitoare

MATEMATICĂ, ETAPA I, 2017-2018

