

CONCURSUL ȘCOLAR NAȚIONAL DE COMPETENȚĂ ȘI PERFORMANȚĂ COMPER

EDIȚIA 2018-2019 / ETAPA I – 28 ianuarie 2019



COMPER – MATEMATICĂ, CLASA PREGĂTITOARE

- Toate subiectele sunt obligatorii.
- Timpul efectiv de lucru este de 50 de minute.
- Cerințele vor fi citite de învățător/supraveghetor.



Ascultă cu atenție enunțurile, apoi încercuiește răspunsurile corecte.

STANDARD


1. Câți pitici are Albă-ca-Zăpada?



2. Colorează brăduțul cu numărul cel mai mare.



3. Numărul care arată câte stele galbene sunt în imagine este:



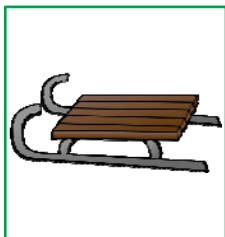
A. 4;


B. 3;

C. 7;

D. 6.

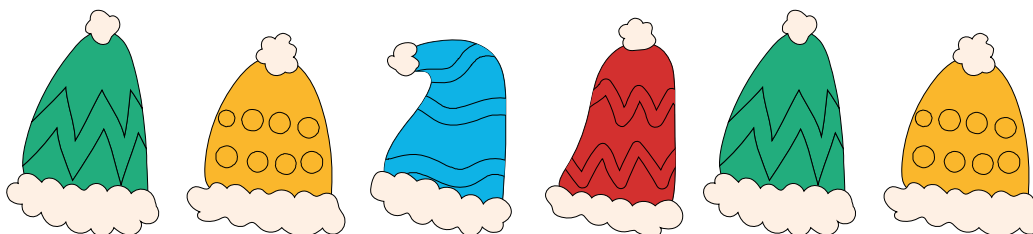
4. Găsește ce nu se potrivește și încercuiește litera corespunzătoare.



5. Privește șirul următor: **1** **3**  **7** **9**
și găsește numărul pe care îl ascunde Moș Crăciun. Acesta este:
A. 2; B. 8; C. 5; D. 6.
6. Desenează sub nor atâția fulgi de zăpadă câți sunt necesari pentru a fi 7. Câți fulgi ai desenat?



- A. 2; B. 5; C. 3; D. 4.
7. Observă șirul căciulițelor. Ce culoare are căciulița care urmează în șir?



- A. ALBASTRU; B. ROȘU; C. GALBEN; D. VERDE.


8. Ordonează descrescător numerele scrise pe cadouri.



Răspunsul corect este:

- A. 0, 1, 3, 4, 8; B. 0, 1, 4, 3, 8; C. 8, 4, 3, 0, 1; D. 8, 4, 3, 1, 0.

9. Privește numerele din chenar și încercuiește-le pe cele care se află între 6 și 10. Câte numere ai încercuit?



- A. 9; B. 5; C. 2; D. 8.



BAREM DE CORECTARE

Matematică

Clasa pregătitoare

Etapa I

Item	Răspuns	Punctaj
1	B	10
2	D	10
3	A	10
4	B	10
5	C	10
6	D	10
7	A	10
8	D	10
9	C	10
Oficiu		10
Total		100

Se acordă jumătate din punctajul exercițiului pentru itemii la care elevul doar a încercuit/colorat/desenat corect imaginea din enunț, dar nu a finalizat cerința problemei prin alegerea răspunsului corect (A, B, C sau D).