

CONCURSUL ȘCOLAR NAȚIONAL DE COMPETENȚĂ ȘI PERFORMANȚĂ COMPER
EDIȚIA 2021-2022 / ETAPA a II-a – 25 martie 2022
COMPER – MATEMATICĂ

CLASA PREGĂTITOARE

Numele:
 Prenumele:
 Școala: / Clasa:
 Codul C.I.C. (codul de identificare Comper) al elevului:
 Codul C.I.C. (codul de identificare Comper) al profesorului mentor:

- Toate subiectele sunt obligatorii.
- Timpul efectiv de lucru este de 50 de minute.
- Cerințele vor fi citite de învățător/supraveghetor.

Ascultă cu atenție enunțurile, apoi bifează în grilă răspunsurile corecte.

STANDARD

1. Câți fluturași sunt în imagine?



- a. 2; b. 4; c. 6; d. 8.

2. Găsește numerele mai mari decât 3 din cele de mai jos. Câte numere ai găsit?




- a. 6; b. 5; c. 4; d. 3.

3. Elena a cules 3 lalele roșii și 7 lalele galbene. Câte lalele a cules în total?



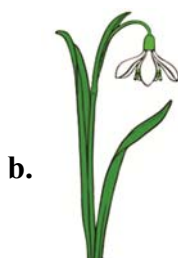

- a. 7; b. 8; c. 9; d. 10.

4. Din cele 7 buburuze, au zburat 4. Câte buburuze au rămas?





- a. 3; b. 4; c. 7; d. 1.

5. Alege ce nu se potrivește!

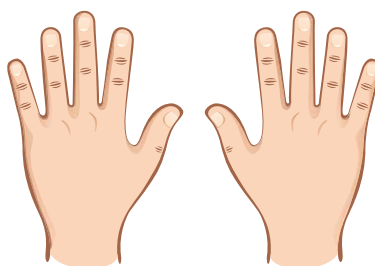


6. Care sunt vecinii mei?



- a. 7 și 9; b. 5 și 8; c. 9 și 10; d. 8 și 9.

7. Câte degete am la cele două mâini?



- a. 8; b. 5; c. 10; d. 6.

EXCELENȚĂ

8. Câte animale domestice sunt în imagini?



a. 4;

b. 5;

c. 6;

d. 7.

9. Andrei oferă celor 3 prietene câte 3 narcise. Câte narcise oferă Andrei?



a. 7;

b. 8;

c. 9;

d. 10.

Itemii 1-7 se notează cu câte 10 puncte fiecare; itemii 8-9 se notează cu câte 15 puncte fiecare.
Total: 100 de puncte.