

**CONCURSUL ȘCOLAR NAȚIONAL DE COMPETENȚĂ ȘI PERFORMANȚĂ COMPER  
 EDIȚIA 2021-2022 / ETAPA NAȚIONALĂ – 23 mai 2022  
 COMPER – MATEMATICĂ**

**CLASA PREGĂTITOARE**

Numele: .....  
 Prenumele: .....  
 Școala: ..... / Clasa: .....  
 Codul C.I.C. (codul de identificare Comper) al elevului: .....  
 Codul C.I.C. (codul de identificare Comper) al profesorului mentor: .....

- Toate subiectele sunt obligatorii.
- Timpul efectiv de lucru este de 120 de minute.
- Cerințele vor fi citite de învățător/supraveghetor.

Ascultă cu atenție enunțurile, apoi bifează în grilă răspunsurile corecte.

**STANDARD**

**1.** Într-un coș sunt 6 mere, iar în alt coș sunt 4 pere. Câte fructe sunt în total?



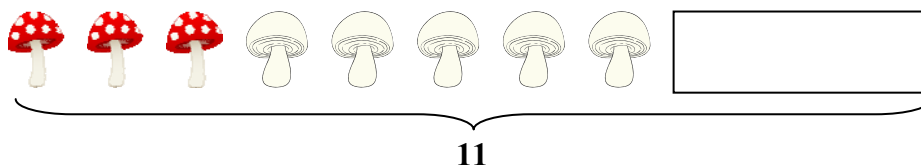
- a. 10;                      b. 11;                      c. 9;                      d. 8.

**2.** Din cele 14 baloane pe care le avea Andrei, s-au spart 4. Câte baloane au rămas?



- a. 7;                      b. 8;                      c. 10;                      d. 9.

**3.** Scufița Roșie a adunat 3 ciupercuțe roșii și 5 ciupercuțe albe. Câte mai trebuie să adune pentru a avea 11?



- a. 4;                      b. 5;                      c. 2;                      d. 3.

4. Alege bancnotele potrivite pentru a obține prețul ursulețului.



5. Știind că = 3, = 5, = 2. Calculează:

$$\text{bee} + \text{butterfly} - \text{leaf} = ?$$

a. 4;

b. 6;

c. 8;

d. 10.

6. Sunt ordonate descrescător numerele din seria:

a. 1, 2, 3;

b. 31, 29, 27;

c. 20, 21, 22;

d. 25, 24, 27.

7. Dacă astăzi este vineri, poimâine va fi:

a. DUMINICĂ;

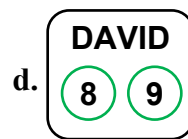
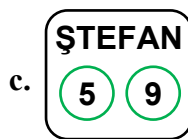
b. SÂMBĂȚĂ;

c. JOI;

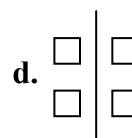
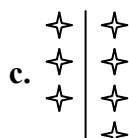
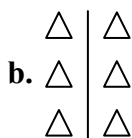
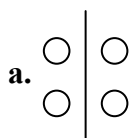
d. MARȚI.

## EXCELENȚĂ

8. Fiecare dintre cei 4 jucători au extras câte 2 cartonașe. Câștigă cel care obține cea mai mare sumă a numerelor înscrise pe cartonașe. Câștigătorul este:



9. Găsește desenul care nu respectă regula:



Itemii 1-7 se notează cu câte 10 puncte fiecare; itemii 8-9 se notează cu câte 15 puncte fiecare.  
 Total: 100 de puncte.