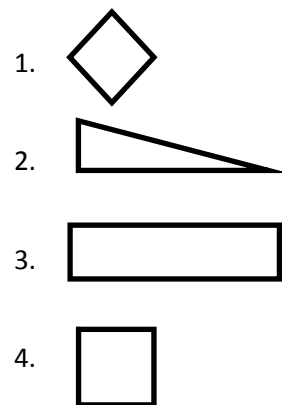
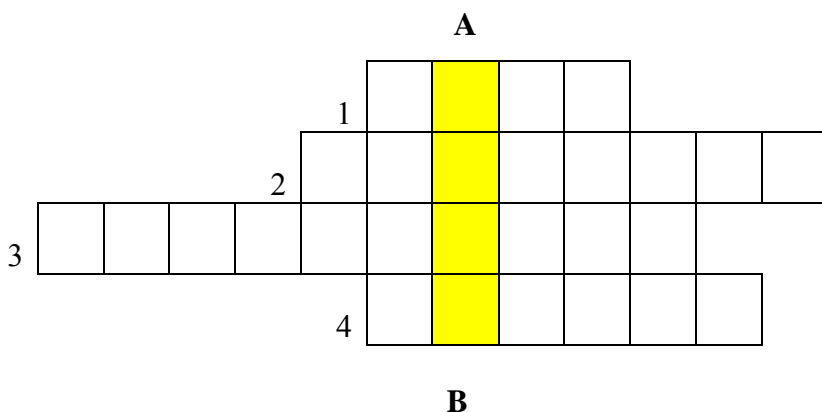


Jocuri logice – clasele I-II

Prof.înv.primar Murgoci Emilia Loredana
Școala Gimnaziala „Gh.Pătrașcu,,Buruiește-Neamț

1. Completează integrama de mai jos cu numele figurilor geometrice corespunzătoare și vei descoperi pe coloana AB numele unui sport tradițional românesc.



2. Găsește în tabelul de mai jos numele a 5 sporturi și scrie-le în chenarul din partea dreaptă pe liniile punctate.

T	E	N	I	S	V	T
F	R	O	I	N	O	T
F	O	T	B	A	L	O
B	A	S	C	H	E	T
A	J	U	D	O	I	O

.....

.....

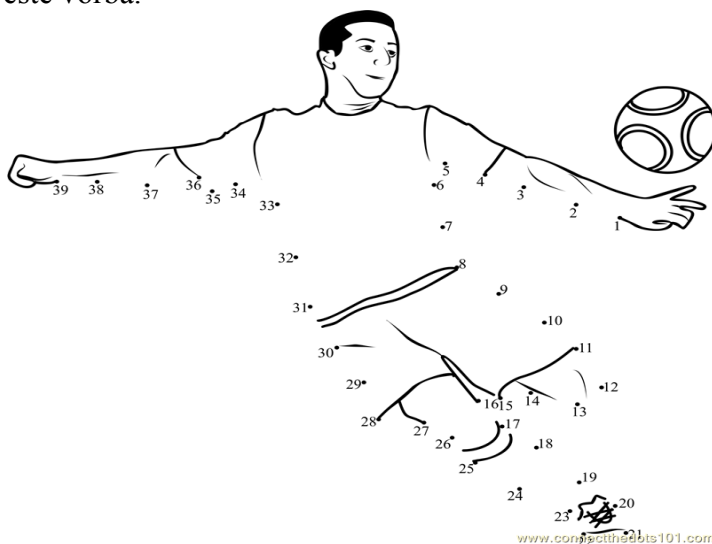
.....

.....

.....

.....


3. Unește punctele de mai jos, descoperă imaginea și scrie pe linia punctată despre ce sport este vorba.



Răspuns:

.....

4. Privește cu atenție imaginile de mai jos și descoperă cele 10 diferențe. Încercuiește doar în imaginea din stânga.



5. Descoperă regula și completează șirul cu încă două numere:

- a) 2, 4, 6, 8,,
- b) 1, 5, 6, 11,,
- c) 30, 3, 40, 4, 50,,
- d) 2, 5, 8, 11,,