

Fișă de lucru

Prof. învă. primar Huja Simona

Figuri geometrice --- Clasa I

1. Unește fiecare figură geometrică cu denumirea corespunzătoare:



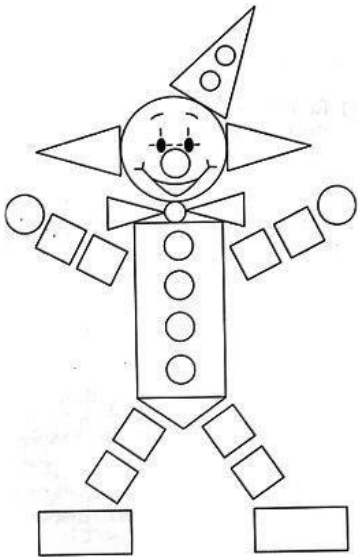
pătrat





triunghi

dreptunghi

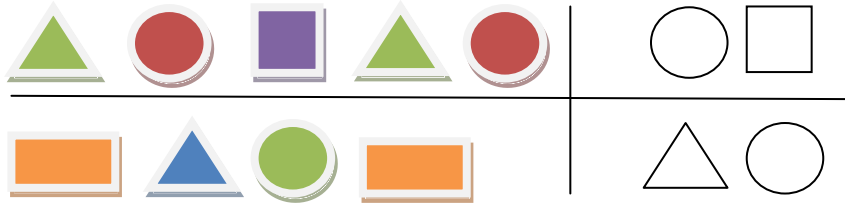
cerc

2. Numără fiecare figură geometrică, apoi scrie în tabel numărul corespunzător fiecărui corp geometric :



3. Descoperă regula și apoi colorează succesorul figurii geometrice din fiecare rând :



4. Cine spune adevărul ?



Casian

Monica

Sorin

